

۱- با دوکارت عدد دورقمی بسازید .

با عدد های ۷ و ۸ و ۰ عدد دورقمی بسازید .

۶

۳

۲- بزرگ ترین عدد دورقمی است .

یکان عددی ۸ و دهگان آن ۲ می باشد آن عدد چیست ؟

یکان عددی ۳ و دهگان آن ۵ تا بیشتر می باشد آن عدد چیست ؟

۹ دسته ی ده تایی منهای دسته ده تایی می شود ۴ دسته ده تایی

۳ دسته ی ده تایی به اضافه ی ۴ دسته ده تایی می شود دسته ده تایی

$$۴۰ + ۱۰ + ۱۰ + ۵ =$$

$$۶۰ - ۲۰ =$$

۳- حاصل را بدست آورید .

$$۲۰ + ۳۰ + ۴ + ۱۰ + ۵ =$$

$$۵۰ - ۲۰ =$$

۴- الگو را ادامه بده

$$۱۰ - ۲۰ - ۳۰ -$$

$$۷ - ۱۴ -$$

$$۹۶ - ۹۵ - ۹۴ -$$

$$۵ - ۱۰ -$$

۵- در دریاچه ای ۵۴ ماهی قرمز و ۲۶ ماهی سیاه برای پرورش ریختند در این دریاچه چه تعداد ماهی قرمز

وسیاه ریختند ؟

۶- ۶۷ ستاره در آسمان بود . ۲۸ تا از آن ها زیر ابر بودند چند تا ستاره در آسمان مانده است ؟

۷- جواب سوال به صورت تقریبی به دست آورید

$$۵۶ \rightarrow \dots\dots$$

$$۸۶ \rightarrow \dots\dots$$

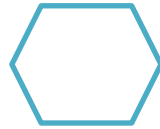

+

-

$$۲۴ \rightarrow \dots\dots$$

$$۳۲ \rightarrow \dots\dots$$

۸- نام اشکال را بنویسید .



نام :

نام :

نام :

گوشه :

گوشه :

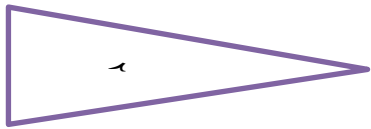
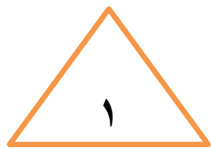

گوشه :

ضلع :

ضلع :

ضلع :

۹- تقارن شکل ها را بکش



۱۰- شباهت :

تفاوت :

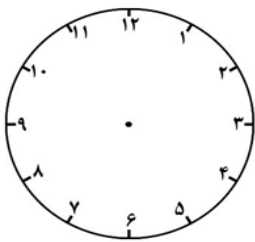
$$\begin{array}{r} 4 \quad 5 \\ + \\ \hline 2 \quad 5 \end{array}$$

۴ ۶

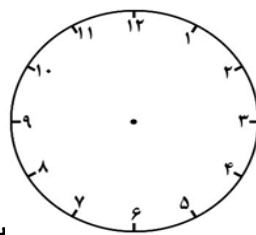
۱۱- جمع و تفریق را به صورت فرایندی حل کنید (با کمک شکل)

۲ ۵

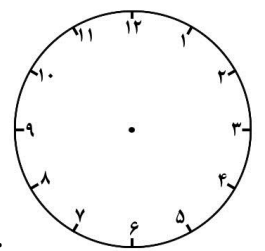
۱۲- ساعت را نشان بده



۸:۲۰



سه و ربع



چهار نیم


۱۳- تقارن دیگر را رنگ کنید .

خط تقارن خطی است

.....



خدا قوت گلم



الف) ۳۶ و ۶۳ (ب) ۷۰ و ۷۸، ۸۰ و ۸۷

۲ الف) ۶۹ (ب) ۲۸ ج) ۸۳ د) ۵ هـ) ۷

۳ $f_0 + 10 + 10 + 5 = 9d$ $90 - 20 = 40$

$20 + 30 + 4 + 10 + 5 = 69$ $50 - 20 = 30$

۴ $10 - 20 - 30 - 40 - 50 - 60 - 70 - 80 - 90 - 100$
 $7 - 14 - 21 - 28 - 35 - 42 - 49 - 56 - 63 - 70$
 $94 - 95 - 96 - 97 - 98 - 99 - 100 - 101 - 102 - 103$
 $5 - 10 - 15 - 20 - 25 - 30 - 35 - 40 - 45 - 50$

۵ $54 + 24 = 78$
هشتاد

۶ $67 - 28 = 39$

۷ $54 \rightarrow 40$ $14 \rightarrow 40$
 $24 \rightarrow 20$ $32 \rightarrow 20$
 80 40

۸ الف) نام = شش ضلعی (ب) نام = بیضی (ج) نام = مثلث
نوشت = شش نوشت = بیضی نوشت = مثلث
ضلع = شش ضلع = بیضی ضلع = مثلث

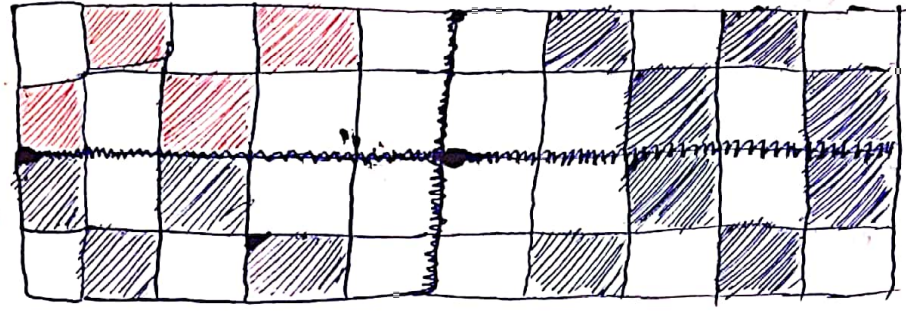
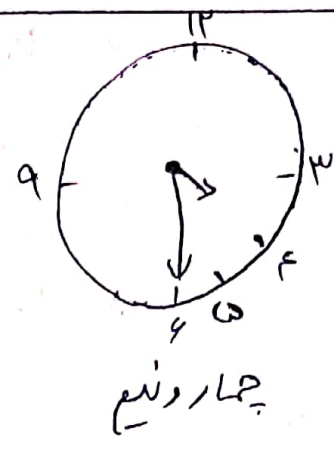
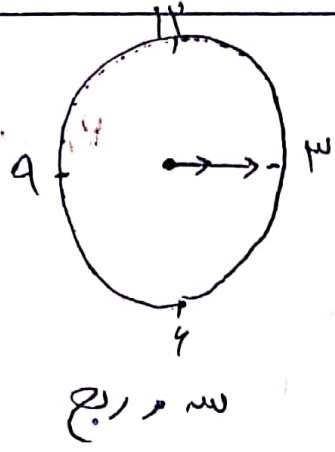


۱۰ شباهت: هر دو مثلث اندازه ضلع و سه گوشه دارند.
تفاوت: مثلث ۱ طول ضلع هایش با هم برابرند اما در مثلث ۲ فقط دو ضلع برابرند.

۱۱ الف) $40 + 20 + 5 = 70$ ب) $40 + 4 - 20 - 5 = 21$

Diagram showing the decomposition of 70 into four 10s and two 5s, and 21 into four 5s and one 1.

۱۳۲۲۲



Handwritten signature or initials.

جزوه سیتی